

1

HRADIŠŤSKÝ VRCH U OKROUHLÉHO HRADIŠŤĚ

Druhé největší hradiště v západních Čechách se rozprostírá na masivním čedičovém kopci. Hradiště pochází z 9. stol před n. l., zaujímá plochu 50 ha a jeho obvodové valy mají délku 3,7 km.

? Ve kterém období pravěku se zde hradiště nacházelo?

střední doba kamenná
mladší doba kamenná

dobu bronzovou
dobu železnou

V této době začaly určité druhy zboží sloužit jako platidla. Mince se ale u nás ještě nerazily.

? Vypiš alespoň dva příklady zboží, které se používalo jako platidlo.

bronzové hřívny, dobytek, látky

? Z materiálu, po kterém je tato doba pojmenovaná, se vyráběly zbraně, nástroje i šperky.

Rozdělte se do dvojic. Ve dvojici si vyberte konkrétní zbraň, nástroj nebo šperk a pantomimicky svůj vybraný předmět předved'te ostatním. Dokážou určit, o který předmět se jedná?

Více dvojic nesmí předvádět tentýž předmět.

2

ZŘÍCENINA HRADU GUTŠTEJN

Hrad byl založen počátkem 14. století mocným rodem Gutštejnů. V roce 1422 odolával obléhání husitským vojskem. Gutštejnové ovšem vlastnili mnoho dalšího majetku, a tak již v 15. století hrad zůstával stranou jejich pozornosti. Nakonec ho v roce 1549 prodali Hanušovi Elpognarovi, majiteli Bezdržic. Poté už hrad zůstal neobydlený.

? Každý šlechtický rod měl svůj erb – grafické znamení charakterizující určitou osobu, rod nebo město. Gutštejnové měli erb, s trojím jelením paroží ve zlatém poli (t.j. na zlatém pozadí).

Vytvořte společně erb své třídy (skupiny), který vás bude charakterizovat. Jako materiál použijte to, co najdete v přírodě (klacíky, listy, kameny...).



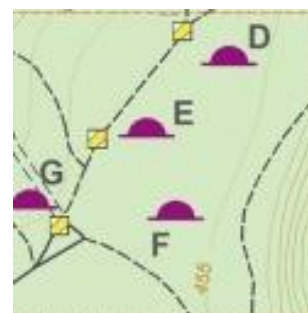
3

MOHYLOVÉ POHŘEBIŠŤĚ

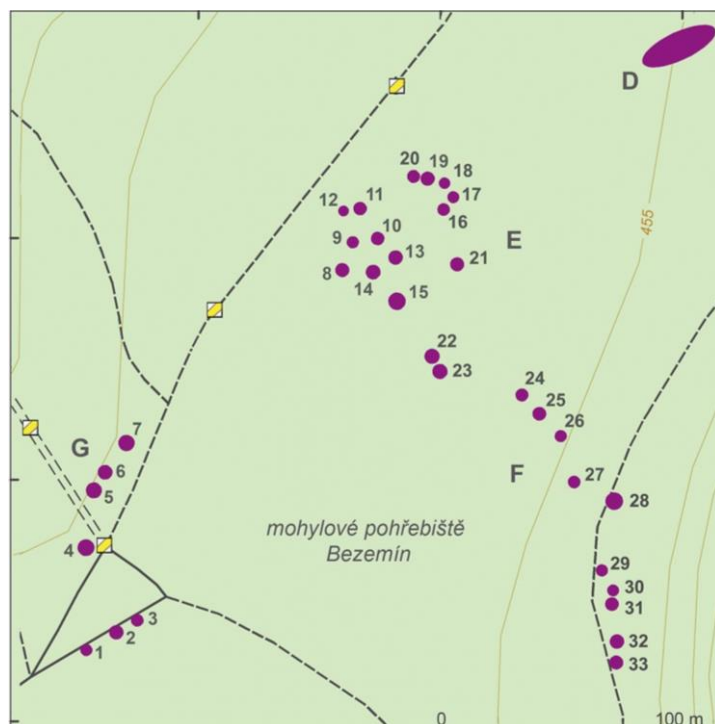
Mohylové pohřebiště tvořilo celek s blízkým slovanským hradištěm. Sestává z více než 40 dochovaných mohyl ve čtyřech skupinách, viz výřez z mapy.

? Jak vypadá mohyla? Čím je tvořena?

Je to násep z kamene a zeminy.



? Zakroužkuj v mapě ty mohyly, které jste v terénu rozpoznali:

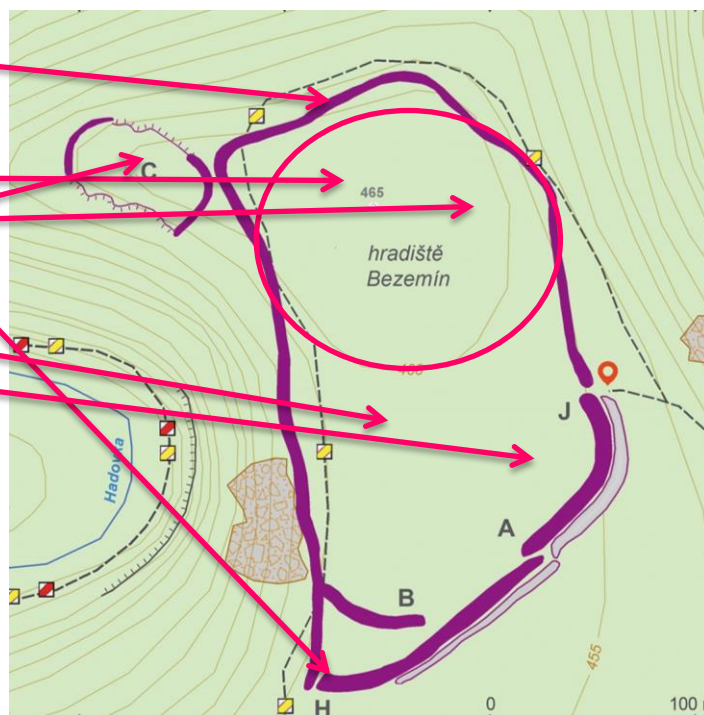


4

HRADIŠTĚ BEZEMÍN

? Zakresli do mapy, kde se nacházely následující části hradiště nebo jednotlivé budovy.

- opevnění
- brána / brány
- akropole
- palác
- kostel
- dvorec
- obydlí řemeslníků
- obydlí obchodníků



5

HRADIŠTĚ ŠIPÍN

Slovanské hradiště z pozdní doby bronzové a raného středověku se rozprostírá na ostrožně ve výšce 430 metrů n. m. Lokalita byla opuštěna na počátku 12. století.

? V době, kdy bylo místo využíváno jako hradiště, se na našem území vystřídalo několik národů. Vyjmenuj je.

keltové, germáni, slované

? Jak se nazývají opevněná hradiště jednoho z těchto národů?

dvorce

oppida

tvrziště

6

HRADIŠTĚ OSTROV

Na ostrožně nad soutokem Úterského a Blažimského potoka se nacházejí terénní pozůstatky hradiště, které bylo osídlené v pozdní době bronzové, v pozdní době halštatské a v raném středověku.

? Rozdělte se na tři skupiny. Každá skupina bude reprezentovat jeden z národů, které jste vyjmenovali na předchozím zastavení. Každá skupina hranými scénkami předvede ostatním vše, co o tomto národu ví (min. 2 informace).

7

ZŘÍCENINA HRADU FALKENŠTEJN

Zbytky malého šlechtického hradu Falštejn či Falkenštejn leží na ostrožně nad dnešním Starým mlýnem na Úterském potoce. Přesná doba vzniku hradu není známa, předpokládá se, že stál již ve 14. stol. Zanikl pravděpodobně v průběhu husitských válek.

? Proveď srovnání hradiště × hrad. Využij své znalosti a vše, co ses dnes během výletu dozvěděl a co jsi vypořezoval (minimálně pět srovnání).

HRADIŠTĚ	TVRZ