

## 1 PRVNÍ PÍSEMNÉ ZMÍNKY V SOUVISLOSTECH

?

Doplň.

První zpráva, která zmiňuje Horšice, pochází z roku 1245 (MCCXLV). V této době vládne v Čechách Václav I., který se jako první stal králem dědičně na základě listiny Zlatá bula sicilská, kterou získal jeho otec Přemysl Otakar I. v roce 1212. První historické zmínky o vsi Újezd pocházejí z roku 1373 (MCCCLXXIII). Tehdy vládl v Čechách Karel IV., který nechal postavit v Praze kamenný most a dále například Karlštejn nebo Kašperk.

?

Který panovnický rod vládl v době první zmínky o Horšicích?

Přemyslovci

?

Který panovnický rod vládl v době první zmínky o Újezdu?

Lucemburkové

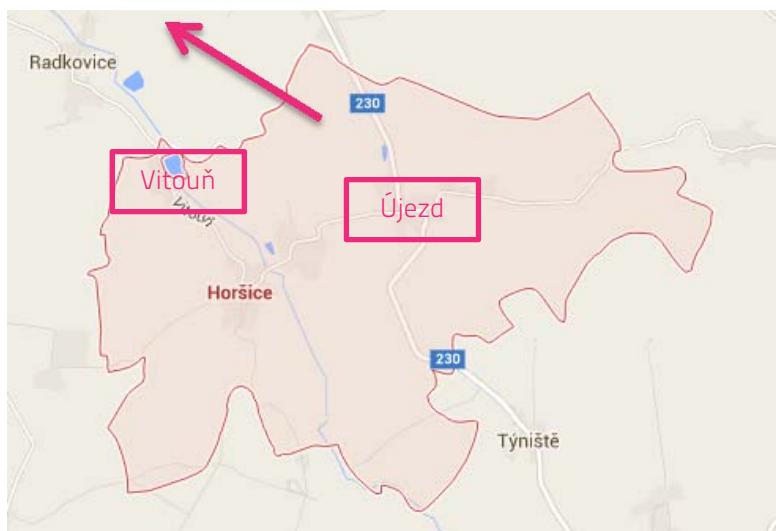
## 2 MAPA

?

Horšice leží asi 5 km jihovýchodně od Přeštic. Zakresli do mapy šipku od Horšic směrem, kterým bychom našli Přeštice, kdyby mapa zahrnovala i toto území.

?

Součástí obce jsou také vesnice Újezd a osada Vitouň. Zakresli je do mapy.




3

## HORŠICE - TVRZ PŘESTAVĚNÁ NA SÝPKU (Č. P. 200)

Poblíž kostela sv. Matěje v Horšicích najdeme rozsáhlý komplex budov dřívějšího panského dvora, mezi nimiž vyniká dvoupatrová budova, která sloužila k uskladňování zrní.

? Doplň do nadpisu, o kterou stavbu se jedná.

? Urči na základě obrázků, ve kterém architektonickém slohu je stavba postavená. **barokním**



? Jeden z barokních prvků je jasně viditelný i na budově. O který se jedná? Vyznač ho na fotografii.

? Ve kterém historickém období se stavěly tvrze?

- starověk
- **středověk**
- novověk

? Kdo sídlil na tvrzi?

nižší šlechtici (zemanové a vladykové)



4

## HORŠICE – KOSTEL SV. MATĚJE

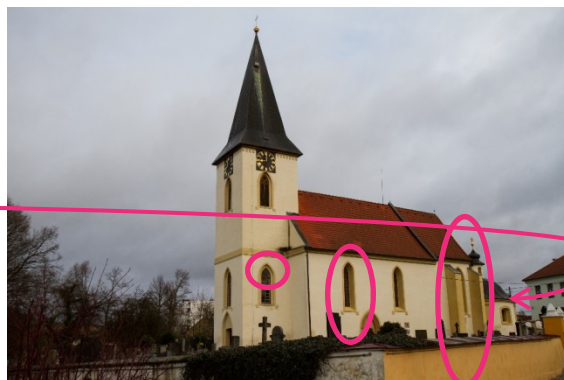
Kostel sv. Matěje je jako farní kostel připomínán již roku 1356 (MCCCLVI). V 18. století k němu byla připojena pohřební kaple sv. Kříže.

? Urči dle fotografie, ve kterém architektonickém slohu byl kostel postaven. **gotickém**

? Pokud je to možné, vyznač na fotografii typické prvky tohoto slohu.

? Vyznač na fotografii, kde se nachází připojená kaple sv. Kříže.

? Ve kterém slohu je postavena kaple sv. Kříže?  
v **barokním**



5

## ÚJEZD – ZÁMEK (Č. P. 20)

Jádro zámku, který vznikl v první třetině 18. století, obsahuje pozůstatky původní tvrze. Ta byla v 16. století přestavěna renesančně. Součástí zámku je kaple sv. Anny.



? Charakterizuj život na tvrzi a na zámku. V čem se lišil?

TVRZ	ZÁMEK
<p>Tvrze byly dřevěné a kamenné stavby s malými okny, v nichž k osvětlení sloužily smolné louče, pochodně nebo kahánky, v jednoduše vybavených místnostech se topilo v krbu nebo v železných koších s dřevěným uhlím. Někdy byly součástí tvrze i sklepy a hospodářské budovy.</p>	<p>Zámky postrádaly opevnění. Byly zařízené drahocným nábytkem, zrcadly a lustry. Součástí zámku byla prostorná jídelna, taneční sál a spousta salónek. Vytápěné byly kachlovými kamny. Stěny zámku pokrývaly tapety.</p>

? Kaple sv. Anny je vyzdobená velmi hodnotnými malbami zhotovenými na vlhké omítce. Jakým slovem se takové malby označují? *fresky*

? Přesnými daty vymeze začátek a konec století, která jsou zmíněna v textu o zámku.

- 1701–1800
- 1501–1600