

1 HISTORIE V SOUVISLOSTECH

? Dopln.

Osada Myt' a vesnice Žd'ár jsou součástí obce Ždírec. Dále k této obci patří také vesnice Smederov. Ždírec je v pramenech poprvé zmiňována v roce _____ (MCCCLXXVI) za vlády _____, označovaného také jako Otec vlasti. Tento panovník během své vlády založil např. _____. Dále nechal postavit např. _____.

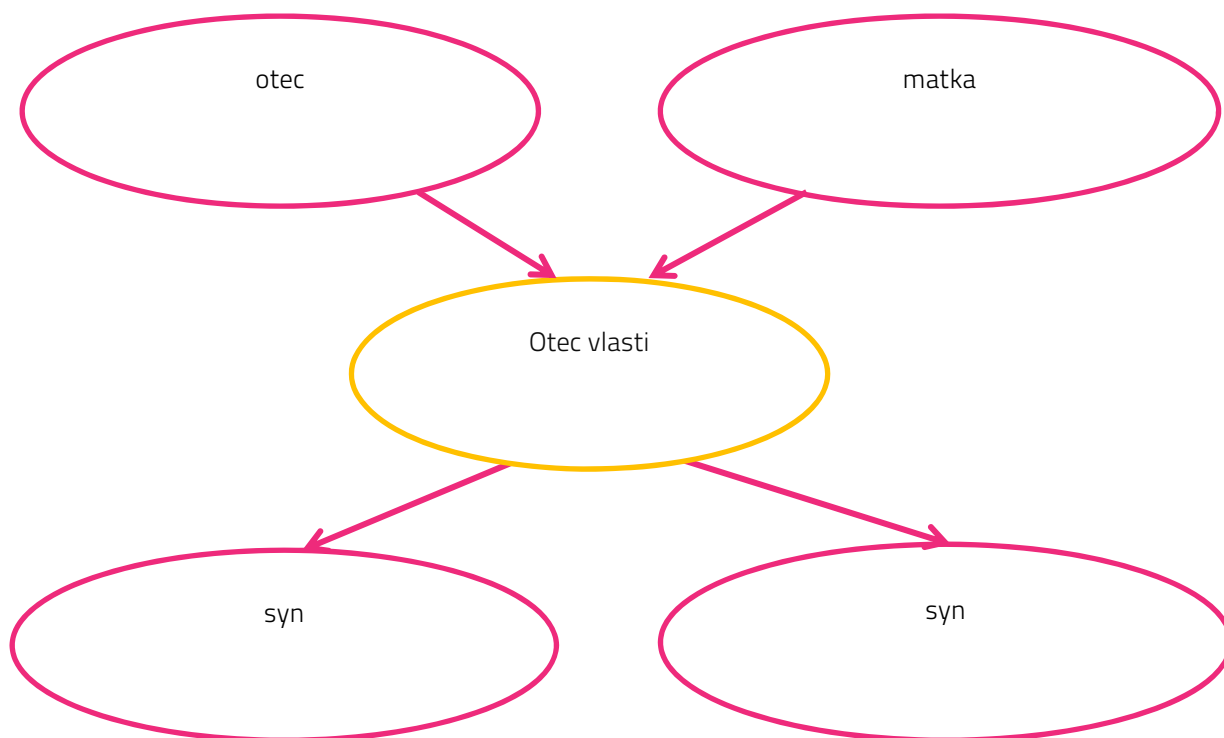
Zmínky o Žd'áru jako zemanském statku pocházejí z období vlády otce zmíněného panovníka, _____, konkrétně z roku _____ (MCCCXXVI). O 20 let později, tedy v roce _____, tento král padl v bitvě u _____ v tzv. stoleté válce. Před touto bitvou, která se jevila jako předem prohraná, se údajně vrhl mezi nepřátele s výkřikem: „_____“

Zemanský statek byl okolo roku _____ (MCCCCXX) prodán Bohuslavovi z Chlumu. V tomto roce byl českým králem korunován druhý syn již zmiňovaného Otce vlasti _____, kterému se od mládí kvůli jeho vlasům říkalo _____.

Osada Myt' byla původně tvořena rozptýlenými dřevařskými zástavbami, které vznikly před rokem _____ (MDCCXXXVII), tedy zřejmě během vlády panovnice _____ nebo jejího otce _____.

? První zmínky týkající se osady Myt' a vesnice Žd'ár pocházejí z období, kdy v Českém království vládl jeden panovnický rod. Dopln pomocí textu a svých znalostí do myšlenkové mapy informace o členech tohoto rodu (jejich jména, další dosud nezmíněné údaje).

Jednalo se o rod _____.



2

LIDOVÁ ARCHITEKTURA

Spoj pojmy s jejich významy.

roubená stavba

tvoří samostatnou jednotku, skládá se z části obytné (světnice, černá kuchyň, komora) a hospodářské (chlév, sýpka, kolny, sklepy, stodola, drobné stavby)

statek

sýpka, stavba, která je určena k uskladňování zrní, tedy vymláčeného obilí

špýchárek

stavba, jejíž stěny jsou zbudovány technikou roubení (trámy jsou kladené vodorovně na sebe a v rozích jsou spojovány)

3

ZANIKLÁ STŘEDOVĚKÁ VES

Zaniklá středověká ves se nacházela jihozápadně od osady Myt'. V lokalitě můžeme najít jisté archeologické stopy, např. nález hliněné nádoby obsahující 300 mincí z let 1413–1458 nebo nálezy zbytků zdiva.

V případě, že by byly nalezeny další předměty, pomocí nichž by bylo možné stanovit konkrétněji, z kterého období byla tato ves, jak bychom ji časově zařadili? Na která období dělíme středověk?

Který obor se zabývá hmotnými nálezy jako nositeli informací o naší historii?

- ekonomika
- heraldika
- archeologie
- strojírenství

Uveď alespoň 3 další příklady HMOTNÝCH PRAMENŮ.

Mohly v nalezené nádobě být tyto mince?

Pokud ano, kde se tehdy razily a jak se jmenovaly?




4


KOSTEL SV. VÁCLAVA

Kostel sv. Václava ve Žďáru je ze 14. století. Je tedy vystavěn v _____ slohu.


V presbytáři se dochovala _____ okna s kružbami s motivy trojlistů a čtyřlistů.

Načrtni, jak gotické okno s kružbou vypadá.



 Na kostele byly později provedeny úpravy ve stylu klasicistním a barokním. Dále je část kostela, sakristie, vystavěna v renesančním stylu. Seřad' všechny doposud uvedené architektonické styly od nejstaršího po nejmladší.

1. _____
2. _____
3. _____
4. _____

 V presbytáři se nacházejí fresky se svatováclavskou legendou z poloviny 14. stol., které patří mezi nejstarší s touto tematikou na našem území. Jsou zde zobrazeny Václavovy skutky a výjevy z jeho života, např. události ve Staré Boleslavi. Co se ve Staré Boleslavi stalo? Vyprávěj tento příběh.
