

1 PRVNÍ PÍSEMNÁ ZMÍNKA V SOUVISLOSTECH

📍 Dopln chybějící údaje.

Chocenice jsou poprvé zmiňovány již roku 1115 (MCXV). V této době vládne v Čechách kníže Vladislav I., syn **Vratislava II.**, prvního českého krále, který získal tento titul v roce 1085 (MLXXXV). Vladislav I. je otcem **Vladislava II.**, druhého českého krále, který se jím stal v roce 1158 (MCLVIII). Dědičný královský titul získal až **Přemysl Otakar I.** v roce 1212.

📍 Za co obecně řečeno získali tito panovníci královské tituly? **za pomoc císaři**

📍 Kterému z nich titul udělil Fridrich Barbarossa? **Vladislavu II.**

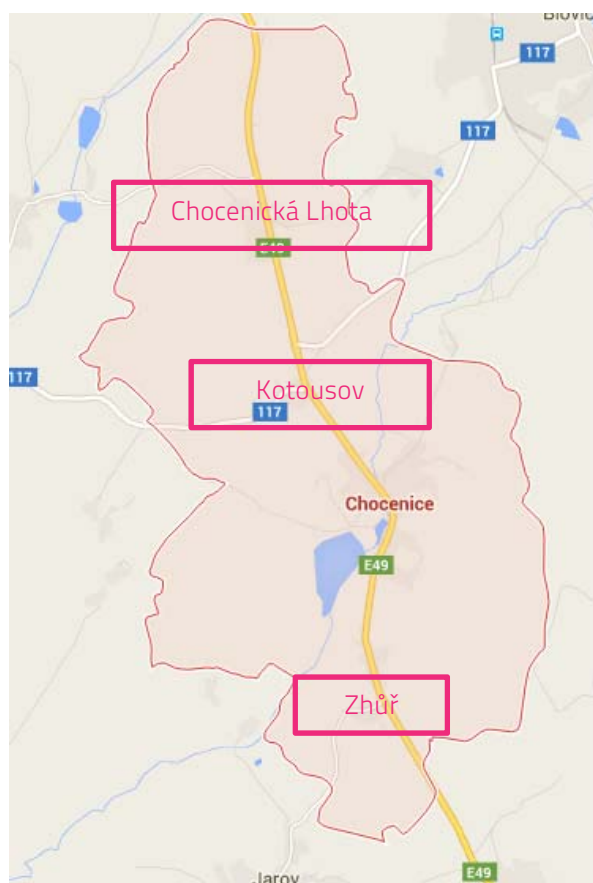
📍 Jak se jmenuje listina, která českým králům zaručovala dědičný titul? **Zlatá bula sicilská**

2 MAPA

📍 Pod správní území Chocenic patří Chocenická Lhota, Kotousov a Zhůř. Zakresli je do mapy.

📍 Dříve se užívala jiná podoba názvu této obce. Která?

- Točenice
- Kocenice
- Hocenice



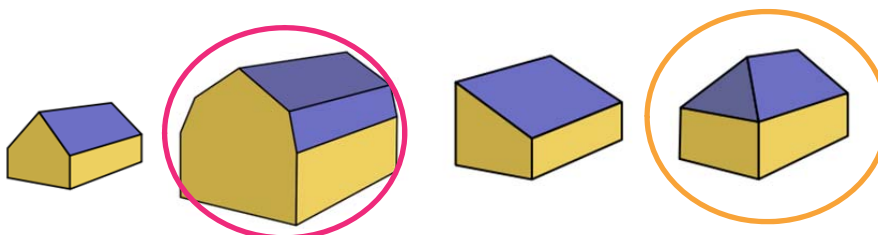
3

NOVÝ ZÁMEK (Č. P. 1) A STARÝ ZÁMEK (Č. P. 92)

Střed zámeckého areálu tvoří izolovaně stojící patrový trojkřídlý zámek (č. p. 1) s valbovou střechou. Západně od nového zámku stojí mohutná patrová budova starého zámku (č. p. 92) s mansardovou střechou a roubeným patrem,

? Jak vypadá půdorys trojkřídlé budovy? Nakresli jej (stačí obvodové zdi).

? Jak vypadá valbová střecha a jak střecha mansardová?



? Nový zámek byl rozšířen a upraven v několika architektonických stylech. Na základě obrázků vyber, o které styly se jednalo. Zároveň je také očíslej od nejstaršího po nejmladší.


renesance, románský sloh, baroko, klasicismus, gotika



klasicismus (3)



renesance (1)



baroko (3)

? Ve starém zámku můžeme najít dochovanou černou kuchyni. Vysvětli, proč se této místnosti tak říkalo a k čemu sloužila.

Protože se jednalo o prostor v domě, převážně v zadní či boční části síně, s otevřeným komínem trychtýřovitého tvaru o větším průměru, pod nímž bylo otevřené ohniště nebo v pozdějších dobách různá topná zařízení, jako např. sporák či pec. Sloužila k vaření a přípravě pokrmů.

4

HOSPODÁŘSKÝ DVŮR (Č. P. 3)

? Přiřaď k pojmům správné vysvětlení.

stodola	stavba, která je určena k uskladňování zrní, tedy vymláceného obilí
stáj	drobná stavba, která slouží převážně k uskladnění různého nářadí, hospodářských dopravních prostředků či paliva
sýpka	budova pro ustájení dobytka, koní apod.
kůlna	stavba určená k uskladňování objemných zemědělských produktů (obilí, slámy, sena)

5

SOCHA SV. VOJTĚCHA + SOCHA SV. JANA NEPOMUCKÉHO

❓ Doplň ke každému světci alespoň tři informace.

SV. VOJTĚCH	SV. JAN NEPOMUCKÝ
<ul style="list-style-type: none"> ▪ z rodu Slavníkovců ▪ druhý pražský biskup ▪ misionář na území Prusů ▪ žil za vlády Boleslava II. ▪ jeho ostatky byly původně uloženy v Hnězdě 	<ul style="list-style-type: none"> ▪ pocházel z Nepomuku ▪ žil za vlády Václava IV. ▪ zapletl se do sporu Václava IV. s Janem z Jenštejna ▪ zemřel na následky mučení, jeho tělo bylo hozeno do Vltavy

❓ Která socha zobrazuje sv. Vojtěcha a která sv. Jana Nepomuckého?



socha sv. Jana Nepomuckého



socha sv. Vojtěcha

6

PAMÁTNÍK ANTONÍNA ŠVEHLY

❓ U hlavní silnice v Chocenicích najdeme památník Antonína Švehly. Kdo to byl?

politik, za 1. světové války jeden z vůdčích představitelů domácího odboje, jeden z mužů 28. října, předseda tří československých vlád